

問題1のこたえ

① 図書館のことを調査せよ

利用カードの有効期限は① 5年

本の貸出は② 10冊まで

DVD・CDの貸出は③ 3点まで

貸出期間は④ 15日間

貸出している資料の延長は⑤ 1回までできる

予約は⑥ 5点まですることができる

今月の休館日は8月⑦ 29日

$$\begin{array}{cccc} \textcircled{3}-\textcircled{5} & \textcircled{7}-\textcircled{4}-\textcircled{1} & \textcircled{5} & \textcircled{2}-\textcircled{6} \\ \parallel & \parallel & \parallel & \parallel \\ \boxed{2} & \boxed{9} & \boxed{1} & \boxed{5} \end{array}$$

の一般書架へむかえ

このあたりは

「図書館利用案内」に書いてある。

休館日は毎月最終火曜日なので、

8月の休館日は29日が正解。

それぞれ答えの数字を当てはめて計算をしよう。

③は「3」、⑤は「1」なので、

$$\textcircled{3}-\textcircled{5}=2$$

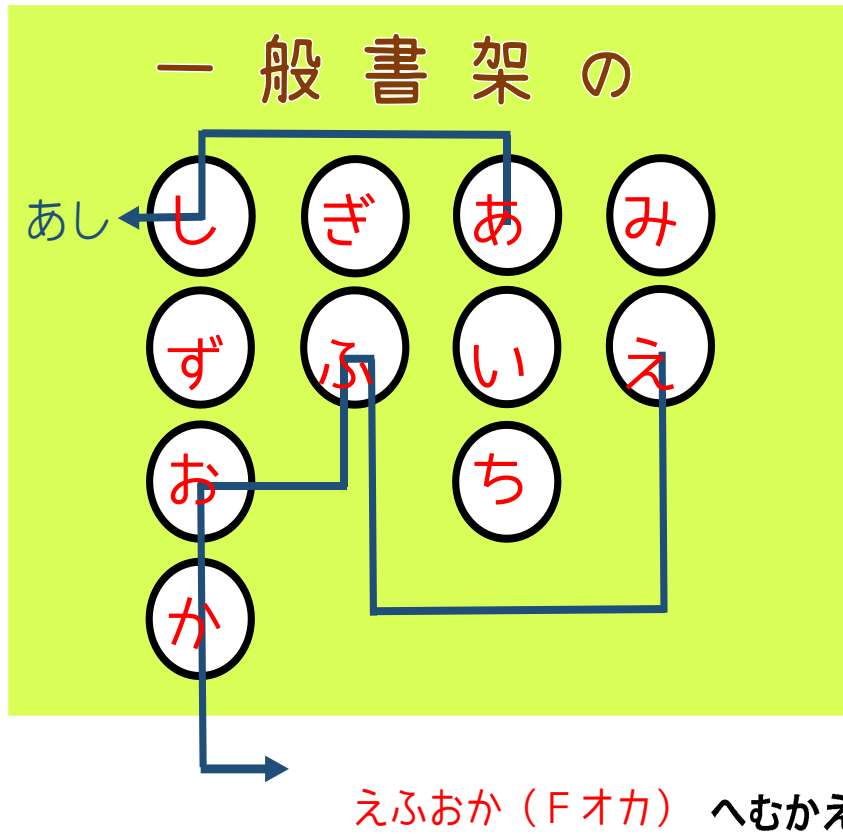
⑦は「29」、④は「15」、①は「5」なので、

$$\textcircled{7}-\textcircled{4}-\textcircled{1}=9$$

②は「10」、⑥は「5」なので

$$\textcircled{2}-\textcircled{6}=5$$

問題2のこたえ



いっぽんしよか
一般書架の291.5には、
「中部おでかけ案内」と書かれた張り紙がある。

4つの県のシルエットを○にあてはめよう。

みぎ ちゅうぶ かい けん
右から三重、愛知、岐阜、静岡。

やじろし とお もじ ひろ
矢印が通る文字を拾っていくと、

「えふおか」

F (小説) のオカからはじまる棚へ行くのが正解

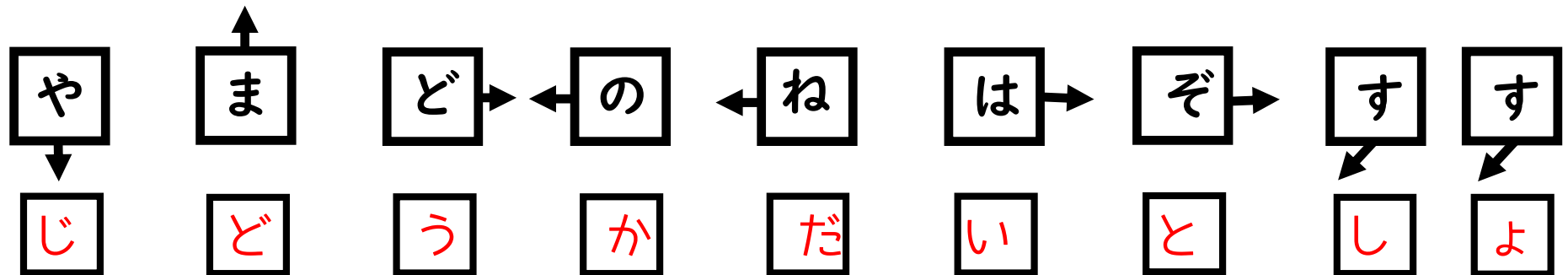
問題3のこたえ

どうやらなぞときにもなれてきたようだね

ここまでじゅんちょうにすすむとおもわなかった

つぎはいかのばしょへむかってくれ

3

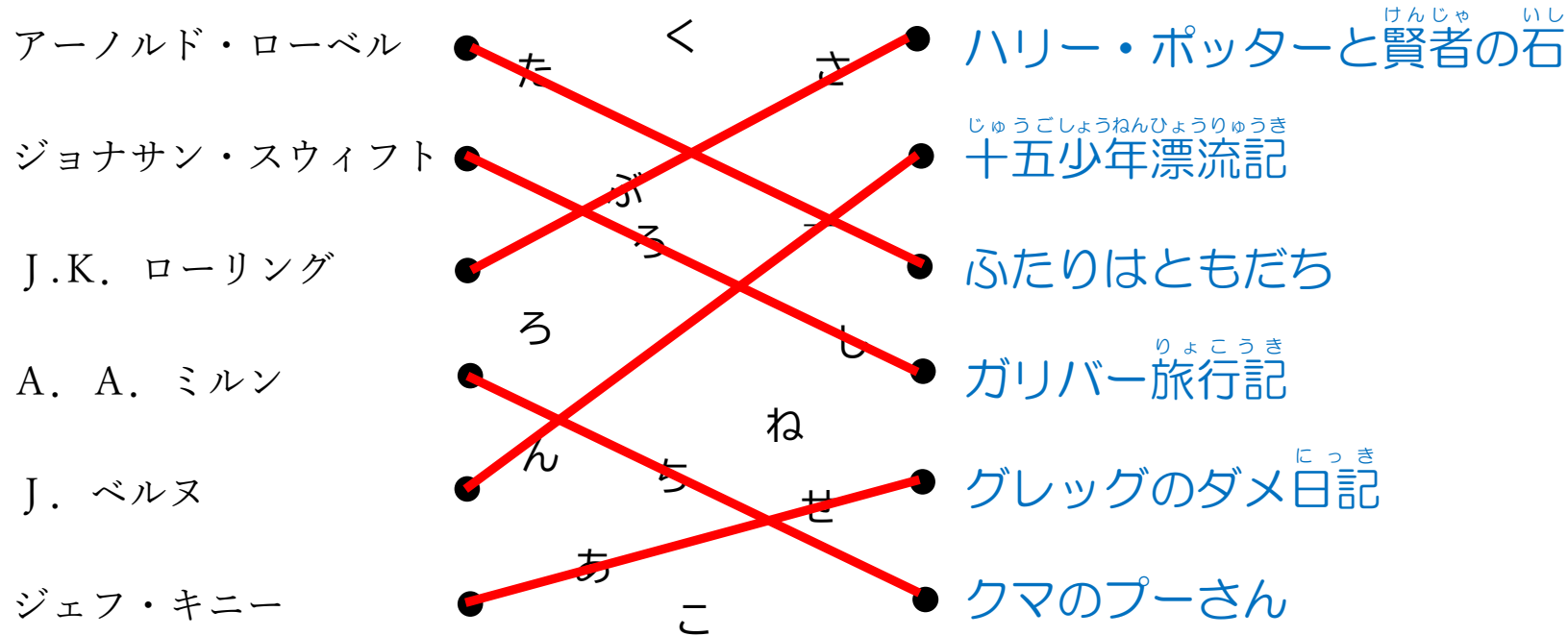


もんだいぶん なか 問題文の中にある文字を探して、ち じ さが 矢印の方向にある文字を、やじるし ほうこう 読むと答えがでてる。よ こた

「や」の下にある文字は「じ」というようにあてはめていく。

児童課題図書のコナーへ向かうのが正解。む せいかい

問題4のこたえ




いちばんおおきい **くろねこ** をさがせ



ほんのタイトルと作者を線で結ぼう。
 線が通らない文字を上から読むと「くろねこ」
 いちばんおおきいくろねこは、
 カウンターの前に貼ってある謎解きのポスターだ。

問題5の答え

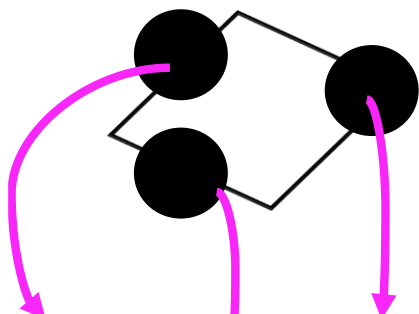


YA911

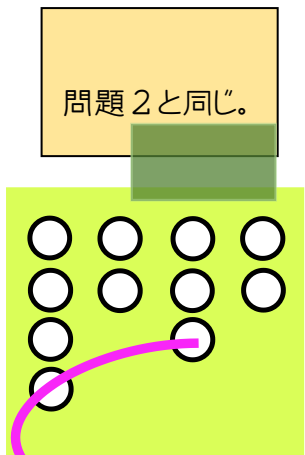
YAエリアの9 1 1が置いてある棚へ
行けたら正解。

問題6のこたえ

さが探している本は



ま



ぶ ろ ー ど 街 の 12 に ち かん

④-③

問題4で線をひいた中に
このひし形を作り出している。
●が該当する文字をそれぞれ入れよう。

問題3と同じ。
「ま」の上は「ど」があてはまる。

問題1と同じ。
④は「15」③は「3」なので
④-③=12